

به نام خدا

تاریخ: ۱۴۰۰/۱۰/۲۹  
آموزگار: بهناز خاندانی

پایه دوم ابتدایی  
آزمون ریاضی نوبت اول

دبستان غیر دولتی دخترانه شهید پور چندقی  
شهرستان رفسنجان  
نام و نام خانوادگی:

۱) عزیزم به خرگوش بازیگوش کمک کن تا الگوی عددی زیر را ادامه دهی.

۱-۲-۴-۷-.....

۱۱۰-۱۲۰-۱۳۰-.....

۱۲-۱۵-۱۸.....

۴-۸-۱۲-.....

۲) باهوشم، جمع و تفریق های زیر را انجام بده.  
به هر روشی که دوست داری

به روش فرایندی

$$\begin{array}{r} 96 \\ - 48 \\ \hline \end{array} \quad \begin{array}{r} 65 \\ + 28 \\ \hline \end{array} \quad \begin{array}{r} 53 \\ - 32 \\ \hline \end{array}$$

$$\begin{array}{r} 105 \\ - 9 \\ \hline \end{array} \quad 15+20+10+5=$$

$$403=.....+.....+.....$$

۳) دانش آموز زرنگ من، همه عدد های دورگمی که میتوان با رقم های ۸، ۲ برای یکان و ۵، ۷ برای دهگان نوشت را بنویس  
( با تفکر نظام دار و روش شاخه ای یا درختی )

۴) دختر پرتلاشم، حاصل جمع و تفریق ها را به صورت تقریبی به دست آورید.

$$\begin{array}{r} 69 \\ + 22 \\ \hline \end{array} \rightarrow \begin{array}{r} ..... \\ + ..... \\ \hline \end{array} \quad \begin{array}{r} 58 \\ - 43 \\ \hline \end{array} \rightarrow \begin{array}{r} ..... \\ - ..... \\ \hline \end{array}$$

جزوه سیپتی

۵) شکوفه های باهوش برای هر شکل خط تقارن بکش و سپس نشان بده کدام شکل خط تقارن ندارد.



۶) دانای من، شباهت و تفاوت این دو شکل را بنویس.



شباهت: .....

تفاوت: : .....

۷) دختر پرتلاشم، با کارت های ۶، ۴، ۲ هر چه میتوانی عدد سه رقمی بساز.  
حالا بین عدد هایی که نوشتی بیشترین و کمترین عدد را بنویس.

بیشترین: ..... کمترین: .....

از بین عدد ها عددی که جمع رقم یکان و صدگان آن برابر رقم دهگان باشد .....


۸) عزیزم، تعداد هر کدام را بشمار و جدول را کامل من، سپس با عدد و حروف بنویس.



ص	د	ی

رقم: .....

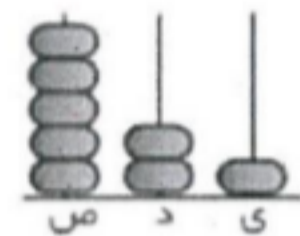
حروف: .....



ص	د	ی

رقم: .....

حروف: .....



ص	د	ی

رقم: .....

حروف: .....

۹) دانشمند من، جاهی خالی را کامل کن.

الف) ۹۶ یعنی ..... ده تایی و ..... یکی

ب) ۵ دسته ده تایی و ۲ یکی می شود .....

پ) ۸ سکه ۱۰۰ ریالی، ۳ سکه ۱۰ ریالی و ۹ سکه ۱ ریالی می شود ..... ریال

ت) عدد ۶۵۴ یعنی ..... یکی ..... ده تایی و ..... صدتایی

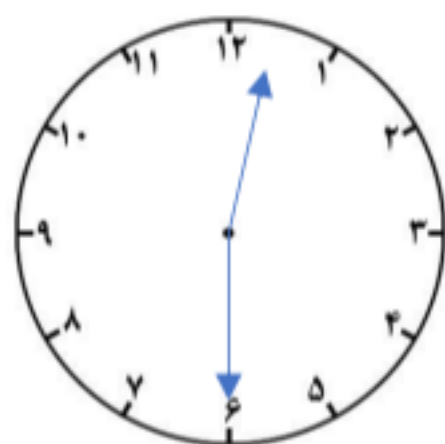
ث) عدد ۱۸۲ به ۱۸۰ نزدیکتر است یا به ..... ؟ .....  
ج) عدد ۶۸ به ..... نزدیکتر است یا به ..... ؟ .....

۱۰) خوش اخلاق من، حاصل و تفریق ها با هم حذف رقم یکان و دهگان به صورت تقریبی بنویس.

$$\begin{array}{r} 239 \\ + 682 \\ \hline \end{array} \rightarrow \begin{array}{r} + \\ \hline \end{array}$$

$$\begin{array}{r} 518 \\ - 344 \\ \hline \end{array} \rightarrow \begin{array}{r} - \\ \hline \end{array}$$

۱۱) خوش فکر من، کتاب علی ۴۸ صفحه دارد. او امروز ۳۵ صفحه از کتاب را خوانده است، علی چند صفحه از کتاب را نخوانده است؟ (به روش فرایندی حل کن)



۱۲) باهوش من جواب سوالات زیر را بنویس.

ساعت چند است؟ ..... یا .....  
.....

۳۰ دقیقه ی دیگر ساعت چند است؟ .....  
.....

اگر ساعت ۴:۴۵ باشد، ربع ساعت بعد ساعت چند است؟ .....  
.....

با ارزی موفقیت برای شما

# جزوه سیپی

به نام خدا

تاریخ: ۱۴۰۰/۱۰/۲۹  
آموزگار: بهناز خاندانی

پایه دوم ابتدایی  
آزمون ریاضی نوبت اول

دبستان غیر دولتی دخترانه شهید پور جندقی  
شهرستان رفسنجان  
نام و نام خانوادگی:

(۱) عزیزم به خرگوش بازیگوش کمک کن تا الگوی عددی زیر را ادامه دهی.

۱-۲-۴-۷-۱۱-۱۶-۲۲

۱۱۰-۱۲۰-۱۳۰-۱۴۰-۱۵۰-۱۶۰

۱۲-۱۵-۱۸-۲۱-۲۴-۲۷

۴-۸-۱۲-۱۶-۲۰-۲۴

(۲) باهوشم، جمع و تفریق های زیر را انجام بده.

به هر روشی که دوست داری

به روش فرایندی

$$\begin{array}{r} 96 \\ - 48 \\ \hline 48 \end{array} \quad \begin{array}{r} 65 \\ + 28 \\ \hline 93 \end{array} \quad \begin{array}{r} 53 \\ - 32 \\ \hline 21 \end{array}$$

$$\begin{array}{r} 105 \\ - 9 \\ \hline 96 \end{array} \quad 15+20+10+5=50$$
$$403=400+0+3$$


(۳) دانش آموز زرنگ من، همه عدد های دورغمی که میتوان با رقم های ۸، ۲ برای یکان و ۵، ۷ برای دهگان نوشت را بنویس (با تفکر نظام دار و روش شاخه ای یا درختی)

۷۲-۷۸-۵۲-۵۸

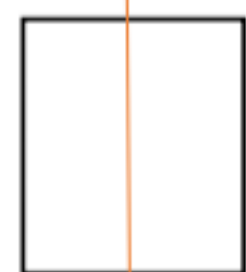
(۴) دختر پرتلاشم، حاصل جمع و تفریق ها را به صورت تقریبی به دست آورید.

$$\begin{array}{r} 69 \\ + 22 \\ \hline 91 \end{array} \quad \begin{array}{r} 58 \\ - 43 \\ \hline 15 \end{array}$$

(۵) شکوفه های باهوش برای هر شکل خط تقارن بکش و سپس نشان بده کدام شکل خط تقارن ندارد.



ندارد






۶) دانای من، شباهت و تفاوت این دو شکل را بنویس.

شباهت: هر دو چهار ضلع و چهار گوشه دارند.

تفاوت: مربع هر اندازه ی ضلع هایش با هم مساوی است اما مستطیل فقط ضلع های روبرو با هم مساوی است.



۷) دختر پرتلاشم، با کارت های ۲، ۴، ۶ هر چه میتوانی عدد سه رقمی بساز.

حالا بین عدد هایی که نوشتی بیشترین و کمترین عدد را بنویس.

۶۴۲ - ۶۲۴ - ۴۶۲ - ۴۲۶ - ۲۶۴ - ۲۴۶ - بیستین : ۶۴۲ - کمترین : ۲۴۶

از بین عدد ها عددی که جمع رقم یکان و صدگان آن برابر رقم دهگان باشد ۴۶۲ - ۲۶۴


۸) عزیزم ، تعداد هر کدام را بشمار و جدول را کامل من ، سپس با عدد و حروف بنویس .



ص	د	ی
۴	۵	۴

رقم: ۴۵۴

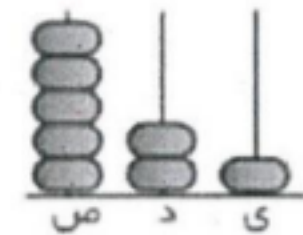
حروف: چهارصد و پنجاه و چهار



ص	د	ی
۳	۲	۹

رقم: ۳۲۹

حروف: سی صد و بیست و نه



ص	د	ی
۵	۲	۱

رقم: ۵۲۱

حروف: پانصد و بیست و یک

۹) دانشمند من ، جاهی خالی را کامل کن.

الف) ۹۶ یعنی ۹ ده تایی و ۶ یکی

ب) ۵ دسته ده تایی و ۲ یکی می شود ۵۲

پ) ۸ سکه ۱۰۰ ریالی ، ۳ سکه ۱۰ ریالی و ۹ سکه ۱ ریالی می شود ۸۳۹ ریال

ت) عدد ۶۵۴ یعنی ۴ یکی ۵ ده تایی و ۶ صدتایی

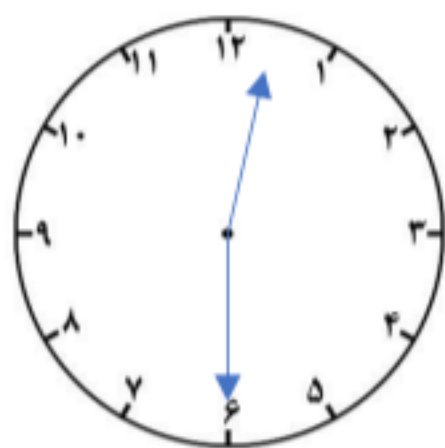
ث) عدد ۱۸۲ به ۱۸۰ نزدیکتر است یا به ۱۹۰؟ ۱۸۰  
ج) عدد ۶۸ به ۶۰ نزدیکتر است یا به ۷۰؟ ۷۰

۱۰) خوش اخلاق من، حاصل و تفریق ها با هم حذف رقم یکان و دهگان به صورت تقریبی بنویس.

$$\begin{array}{r} ۲۳۹ \\ + ۶۸۲ \\ \hline \end{array} \rightarrow \begin{array}{r} ۲۰۰ \\ + ۶۰۰ \\ \hline ۸۰۰ \end{array} \quad \begin{array}{r} ۵۱۸ \\ - ۳۴۴ \\ \hline \end{array} \rightarrow \begin{array}{r} ۵۰۰ \\ - ۳۰۰ \\ \hline ۲۰۰ \end{array}$$

۱۱) خوش فکر من، کتاب علی ۴۸ صفحه دارد. او امروز ۳۵ صفحه از کتاب را خوانده است، علی چند صفحه از کتاب را نخوانده است؟ (به روش فرایندی حل کن)  
علی ۱۳ صفحه از کتاب را نخوانده است.

$$\begin{array}{r} 48 \\ - 35 \\ \hline 13 \end{array}$$



۱۲) باهوش من جواب سوالات زیر را بنویس.  
ساعت چند است؟ ۱۲:۳۰ یا دوازده و نیم  
۳۰ دقیقه دیگر ساعت چند است؟ ۱:۰۰  
اگر ساعت ۴:۴۵ باشد، ربع ساعت بعد ساعت چند است؟ ۵

با ارزی موفقیت برای شما

# جزوه سیپی